

思考力と集中力を高めるー自立学習用教材

マスターシリーズ No.4A

パズルマスター

算数



7 級

1 式をつくろう①

次の式がなりたつように、○にあてはまる+ (たす) ・
- (ひく) ・ × (かける) を書き入れましょう。

〈れい〉

$$6 \bigcirc 3 \bigcirc 12 \bigcirc 4 = 66$$

$$\rightarrow 6 \times 3 + 12 \times 4 = 66$$

1

$$8 \bigcirc 3 \bigcirc 2 \bigcirc 5 = 15$$

2

$$12 \bigcirc 2 \bigcirc 14 \bigcirc 9 = 1$$

3

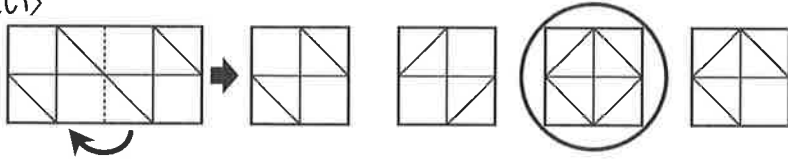
$$24 \bigcirc 8 \bigcirc 3 \bigcirc 9 = 5$$

9 かさ 重ねた形は？②

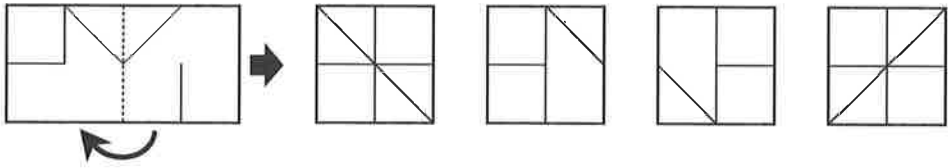
とうめいなビニールの上にかいた線や形を、点線のところかさで右から左におりまげました。重ねた形は、どんな形になりますか。

〈れい〉のように、正しいものに○をつけましょう。

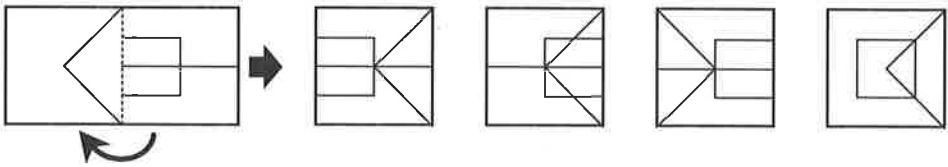
〈れい〉



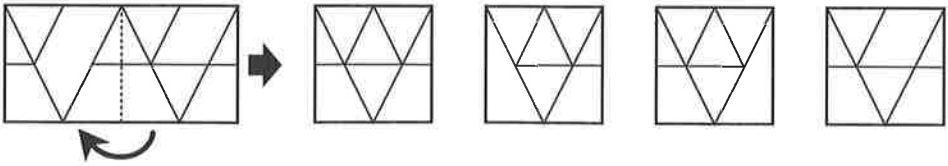
1



2



3



4

